

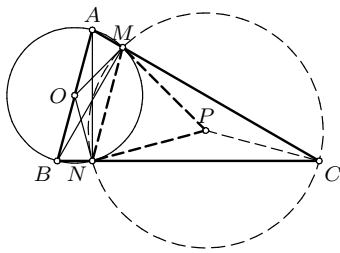
**РЕШЕЊА ЗАДАТАКА ОКРУЖНОГ ТАКМИЧЕЊЕЊА ИЗ  
МАТЕМАТИКЕ УЧЕНИКА СРЕДЊИХ ШКОЛА, 20.02.2010.**

**Први разред, А категорија**

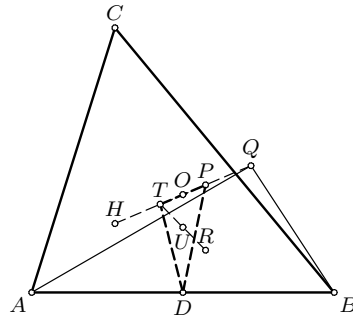
- Како је  $3xyz > 0$ , следи  $x > y, z$ , одакле је  $4x > 2(y+z) = x^2$ , тј.  $x < 4$ . Из  $x^2 = 2(y+z)$  следи  $2 \mid x$ , па мора бити  $x = 2$ . Тада мора бити  $y = z = 1$ , а ова тројка и задовољава систем из задатка и притом је  $x + y + z = 4$ .
- Ако је тврђење задатка тачно, за  $n = 11$  следи да постоји природан број  $x$  чији је збир цифара ( $s(x)$ ) једнак 11, који је дељив са 11 и који при дељењу са 100 даје остатак 11. Нека су  $n(x)$  и  $p(x)$  зборови цифара на непарним, односно парним позицијама декадног записа броја  $x$ , редом. Како је  $x$  дељив са 11 важи  $11 \mid n(x) - p(x)$ , а како је  $11 = s(x) = n(x) + p(x)$ , следи да је један  $n(x)$  и  $p(x)$  једнак 0, а други 11. Ово није могуће, јер је  $x \equiv 11 \pmod{100}$  (тј.  $n(x), p(x) \geq 1$ ).

Дакле, за  $n = 11$  не постоји  $x$  са захтеваним особинама, па тврђење из задатка није тачно.

- Нека је  $O$  центар кружнице  $k$ . Како је  $\sphericalangle BNA = \sphericalangle BMA = 90^\circ$  (угао над пречником), следи  $\sphericalangle MAN = \sphericalangle CAN = 90^\circ - \sphericalangle BCA$ , па је  $\sphericalangle MON = 2 \cdot \sphericalangle MAN = 180^\circ - 2 \cdot \sphericalangle BCA$  (централни и периферијски угао). Како су  $PM$  и  $PN$  тангенте на  $k$ , следи  $\sphericalangle PMO = \sphericalangle ONP = 90^\circ$ , четвороугао  $NPMO$  је тетиван, па је  $\sphericalangle NPM = 180^\circ - (180^\circ - 2 \cdot \sphericalangle BCA) = 2 \cdot \sphericalangle BCA$ . Кружница са центром у  $P$  и полупречника  $PN$  садржи  $M$  (једнакост тангентних дужи), а по претходном и  $C$  (централни и периферијски угао). Како је и  $PC = MN$ , следи  $PM = MN = NP$ , тј.  $\triangle PMN$  је једнакостраничан. Дакле,  $\sphericalangle BCA = \sphericalangle NCM = \frac{1}{2} \cdot \sphericalangle NPM = 30^\circ$  (Тангента 57, стр. 15, Наградни задаци, М821).



ОК 10 1А 3



ОК 10 1А 4

- Нека је  $x = \overrightarrow{OX}$  за  $x \in \{a, b, c, h, t, d, p, q, r, u\}$  (тј. малим латиничним словом је означен вектор који спаја центар описане кружнице и тачку означену истим великим латиничним словом). Тада је  $t = \frac{a+b+c}{3}$ ,  $h = a + b + c$  (особине тежишта и ортоцентра),  $d = \frac{a+b}{2}$  (средиште дужи),  $p = -\frac{a+b+c}{3}$ ,  $q = -(a + b + c)$  (по симетрији),  $r = \frac{1}{3} \cdot (a + b + q) = \frac{1}{3} \cdot (a + b - a - b - c) = -\frac{c}{3}$  (тежиште  $\triangle ABQ$ ).

Нека је  $V$  тежиште  $\triangle DPT$ . Тада је  $v = \overrightarrow{OV} = \frac{1}{3} \cdot (d + p + t) = \frac{1}{3} \cdot (\frac{a+b}{2} - \frac{a+b+c}{3} + \frac{a+b+c}{3}) = \frac{a+b}{6}$ . Како је  $v = \frac{d}{3}$ , следи  $O - V - D$ ; како је  $2(v - r) = 2 \cdot (\frac{a+b}{6} + \frac{c}{3}) = \frac{a+b+2c}{3} = t - r$ , следи  $R - V - T$ ; дакле,  $V$  припада правима  $OD$  и  $RT$ , па је  $U \equiv V$  (из  $BC \neq CA$  следи  $OD \neq RT$ ).

*Друго решење.* На основу особина Ојлерове праве је  $\frac{HT}{TO} = 2$ , па је  $\frac{QP}{PO} = 2$ ; како је и  $\frac{QR}{RD} = 2$  (тежиште дели тежишну дуж у односу 2 : 1), следи  $PR \parallel OD$  и  $OD = \frac{3}{2} \cdot PR$ . Како је  $O$  средиште  $TP$ ,  $OD$  је средња линија  $\triangle PRT$ , па је  $OU = \frac{1}{2} \cdot PR = \frac{1}{3} \cdot OD$ , тј.  $\frac{DU}{OU} = 2$ . Следи да је  $U$  тежиште  $\triangle DPT$ .

- Ако се два суседна места на којима пар седи посматра као блок, када се сви сместе у реду ће бити 6 блокова и 8 празних места.

Блокови и празна места могу се у ред поређати на  $\binom{14}{6}$  начина; парови се придружују блоковима на  $6!$  начина; сваки пар може сести у изабрани блок на два начина (што даје  $2^6$  могућности).

Дакле, укупан број распореда је  $\binom{14}{6} \cdot 6! \cdot 2^6$ .

## Први разред, Б категорија

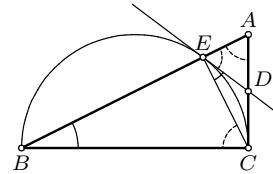
1. Како је  $|a| = a$  за  $a \geq 0$  и  $|a| = -a$  за  $a < 0$ , следи:

- 1° Ако је  $x < -\frac{1}{2}$ , једначина постаје  $-(2x+1) - (x-1) = 2-x$ , одакле је  $x = -1$  (што је мање од  $-\frac{1}{2}$ ).
- 2° Ако је  $-\frac{1}{2} \leq x < 1$ , једначина постаје  $(2x+1) - (x-1) = 2-x$ , одакле је  $x = 0$  (што припада скупу  $[-\frac{1}{2}, 1)$ ).
- 3° Ако је  $x \geq 1$ , једначина постаје  $(2x+1) + (x-1) = 2-x$ , одакле је  $x = \frac{1}{2}$ . Међутим, како  $\frac{1}{2} \notin [1, \infty)$ , ово није решење.

Дакле, решење је  $x \in \{-1, 0\}$ , тј. једначина има два решења (Тангента 56, стр. 25, Писмени задаци, задатак 8).

2. Како је  $\sphericalangle DEC = \sphericalangle EBC = \sphericalangle ABC$  (тетивни

и тангентни угао) и како је  $\sphericalangle AEC = 180^\circ - \sphericalangle CEB = 90^\circ$  (угао над пречником), следи  $\sphericalangle AED = 90^\circ - \sphericalangle DEC = 90^\circ - \sphericalangle ABC = \sphericalangle CAB = \sphericalangle DAE$ , тј.  $\triangle DAE$  је једнакокраки (Тангента 58, стр. 31, Писмени задаци, задатак 5).



ОК 10 1Б 2

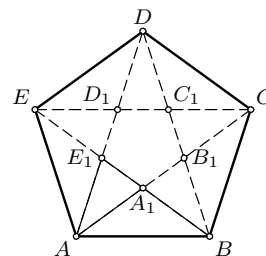
3. Како је  $11^2 \equiv 121 \equiv 21 \pmod{100}$ ,  $11^4 \equiv 21^2 \equiv 441 \equiv 41 \pmod{100}$ ,  $11^8 \equiv 41^2 \equiv 1681 \equiv 81 \pmod{100}$ ,  $11^{10} \equiv 11^2 \cdot 11^8 \equiv 21 \cdot 81 \equiv 1701 \equiv 1 \pmod{100}$ , следи  $2011^{2010} \equiv 11^{2010} \equiv 1 \pmod{100}$ , па је цифра десетица броја  $2011^{2010}$  једнака 0.
4. Како постоји посета између Ане и Бебе, једна од њих две је Дацу посетила ујутро, а друга увече. Како Ана није посетила Дацу и пре Весне и пре Гоце, следи да је Анина посета била увече. Дакле, Бебина посета је била ујутро, па су Весна и Гоца Дацу посетиле након ње. Пошто Весна није посетила Дацу између Бебе и Гоце, следи да је Гоцина посета била ујутро, а Бебина увече.  
Дакле, редослед посета је Беба–Гоца–Ана–Весна.
5. Видети решење првог задатка за први разред А категорије.

## Други разред, А категорија

1. Нека је  $AB = a$  (страна петоугла  $ABCDE$ ), а  $A_1B_1 = x$  (страна петоугла  $A_1B_1C_1D_1E_1$ ). Унутрашњи угао правилног петоугла је  $\frac{3 \cdot 180^\circ}{5} = 108^\circ$ . Следи  $\sphericalangle EAB = 108^\circ$ , а како

је  $\triangle EAB$  једнакокраки, следи  $\sphericalangle ABE_1 = \sphericalangle E_1EA = \frac{180^\circ - 108^\circ}{2} = 36^\circ$ . Слично,  $\triangle EAE_1$  је једнакокраки, па следи  $\sphericalangle EAE_1 = 36^\circ$ , односно (спољни угао у троуглу)  $\sphericalangle BE_1A = \sphericalangle E_1EA + \sphericalangle EAE_1 = 72^\circ$ . Како је и  $\triangle AA_1E_1$  једнакокраки, следи  $\triangle ABE_1 \sim E_1AA_1$  и  $AB = BE_1 = BA_1 + A_1E_1 = AA_1 + A_1E_1 = AE_1 + A_1E_1$ . Из сличности следи  $\frac{AB}{AE_1} = \frac{AE_1}{A_1E_1}$ .

Дакле,  $AE_1 = a - x$ ,  $\frac{a}{a-x} = \frac{a-x}{x}$ , одакле је  $\left(\frac{a}{x}\right)^2 - 3 \cdot \frac{a}{x} + 1 = 0$ , тј. (јер је  $\frac{a}{x} > 1$ )  $\frac{a}{x} = \frac{3+\sqrt{5}}{2}$ .



ОК 10 2А 1

Како се површине сличних фигура односе као квадрати одговарајућих линеарних елемената, следи  $\frac{P(ABCDE)}{P(A_1B_1C_1D_1E_1)} = \left(\frac{3+\sqrt{5}}{2}\right)^2 = \frac{7+3\sqrt{5}}{2}$  (Тангента 55, стр. 28, Наградни задаци, М781).

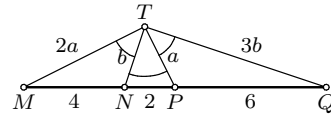
2. Играчи  $A$  и  $B$  су одиграли  $k + \delta$  партија, где је  $\delta = 0$  ако су  $A$  и  $B$  одиграли партију, а  $\delta = 1$  ако нису. Преостали играчи су одиграли  $\frac{(n-2)(n-3)}{2}$  партија, па је  $\frac{(n-2)(n-3)}{2} + k + \delta = 55$ , односно  $n^2 - 5n + 2k + 2\delta = 104$ . Како је  $k \geq 1$  и  $\delta \geq 0$ , следи  $n^2 - 5n + 2k + 2\delta \geq n^2 - 5n + 2$ , одакле је  $n^2 - 5n \leq 102$ , а како је  $n \in \mathbb{N}$ , следи  $n \leq 12$ . Како је  $k \leq n - 3$  и  $\delta \leq 1$ , следи  $n^2 - 5n + 2k + 2\delta \leq n^2 - 5n + 2n - 6 + 2$ , одакле је  $108 \leq n^2 - 3n$ , а како је  $n \in \mathbb{N}$ , следи  $n \geq 12$ . Притом, ако је  $k < n - 3$  или  $\delta < 1$ , у последњој неједнакости се добија  $108 < n^2 - 3n$ , тј.  $n > 12$ , па у овој ситуацији нема решења.

Дакле,  $n = 12$ ,  $k = n - 3 = 10$  и  $\delta = 1$ , тј.  $A$  и  $B$  нису играли међусобно.

3. Нека је  $TP = a$ ,  $TN = b$ . Како је  $TN$  симетрала  $\sphericalangle PTM$ , следи  $\frac{TM}{TP} = \frac{MN}{NP} = 2$ , тј.  $TM = 2a$ . Како је  $TP$  симетрала  $\sphericalangle QTN$ , следи  $\frac{TQ}{TN} = \frac{PQ}{NP} = 3$ , тј.  $TQ = 3b$ .

Применом косинусне теореме на  $\triangle TMN$ ,  $\triangle TNP$ ,  $\triangle TPQ$  следи

$$\begin{aligned} 4a^2 + b^2 - 4ab \cos \alpha &= 16, \\ a^2 + b^2 - 2ab \cos \alpha &= 4, \\ a^2 + 9b^2 - 6ab \cos \alpha &= 36. \end{aligned}$$



Решавањем овог система (систем линеарних једначина по  $a^2, b^2, ab \cos \alpha$ ) добија се

ОК 10 2А 3

$$a^2 = \frac{36}{5}, b^2 = \frac{32}{5}, ab \cos \alpha = \frac{24}{5}, \text{ одакле } (a, b > 0) \text{ следи } a = \frac{4\sqrt{2}}{\sqrt{5}}, b = \frac{6}{\sqrt{5}} \text{ и } \cos \alpha = \frac{24}{5ab} = \frac{24}{5 \cdot \frac{24\sqrt{2}}{5}} = \frac{1}{\sqrt{2}}, \text{ тј. } \alpha = 45^\circ.$$

4. За свака два различита цела броја  $a$  и  $b$  и  $p \in \mathbb{Z}[x]$  важи  $a - b \mid p(a) - p(b)$ . Ако је  $n$  сложен број који задовољава услове задатка, нека је  $d$  његов делилац такав да је  $1 < d < n$ ; следи  $n - d \mid p(n) - p(d) = 1 - \frac{n}{d}$ , односно  $\frac{1 - \frac{n}{d}}{n - d} = -\frac{1}{d} \in \mathbb{Z}$ . Како је  $d > 1$ , следи  $|\frac{1}{d}| < 1$ , па је  $-\frac{1}{d} \notin \mathbb{Z}$ . Ако је  $n$  прост број, полином  $p(x) = -x + n + 1 \in \mathbb{Z}[x]$  задовољава  $p(1) = n$  и  $p(n) = 1$ , тј. прости бројеви су решења задатка. Како је то и  $n = 1$  (може се узети  $p(x) = 1$ ), следи да су природни бројеви који задовољавају наведене услове 1 и сви прости бројеви.
5. Ако је  $a^2 + b^2 = 1$ , следи

$$\begin{aligned} a^4 + b^4 &= (a^2 + b^2)^2 - 2a^2b^2 = 1 - 2a^2b^2, \\ a^6 + b^6 &= (a^2 + b^2)^3 - 3a^2b^2(a^2 + b^2) = 1 - 3a^2b^2, \quad \text{па је} \\ \frac{a^4 + b^4 - 1}{a^6 + b^6 - 1} &= \frac{-2a^2b^2}{-3a^2b^2} = \frac{2}{3}. \end{aligned}$$

Ако је  $\frac{a^4 + b^4 - 1}{a^6 + b^6 - 1} = \frac{2}{3}$ , следи

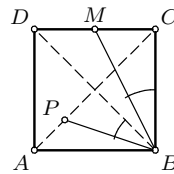
$$\begin{aligned} 0 &= 3(a^4 + b^4) - 2(a^6 + b^6) - 1 \\ &= 3(a^2 + b^2)^2 - 6a^2b^2 - 2(a^2 + b^2)^3 + 6a^2b^2(a^2 + b^2) - 1 \\ &= 2(a^2 + b^2)^2(1 - a^2 - b^2) + (a^2 + b^2)^2 - 1 - 6a^2b^2(1 - a^2 - b^2) \\ &= (1 - a^2 - b^2)(2(a^2 + b^2)^2 - 1 - a^2 - b^2 - 6a^2b^2), \end{aligned}$$

па је довољно доказати да је  $S = 2(a^2 + b^2)^2 - 1 - a^2 - b^2 - 6a^2b^2 \neq 0$  за  $a^2 + b^2 = t \neq 1$ . Тада је  $S = 2t^2 - t - 1 - 6a^2b^2 = (t - 1)(2t + 1) - 6a^2b^2$ . Ако је  $t < 1$ , следи  $S < 0$ . Ако је  $t > 1$ , тада је  $a^2b^2 > t - 1 \Leftrightarrow a^2(t - a^2) > t - 1 \Leftrightarrow 0 < a^2t - t + 1 - a^4 = (1 - a^2)(-t + 1 + a^2) = (1 - a^2)(1 - b^2)$ , што је тачно ( $a, b \in (0, 1)$ , па је  $1 - a^2, 1 - b^2 > 0$ ). Због  $a, b \in (0, 1)$  је и  $t = a^2 + b^2 < 2$ , па важи  $S = (t - 1)(2t + 1) - 6a^2b^2 < (t - 1)(2t + 1) - 6(t - 1) = (t - 1)(2t - 5) < 0$ .

### Други разред, Б категорија

1. Како је  $M$  средиште  $BC$ , следи  $\frac{BC}{CM} = 2$ . Како је  $P$  средиште  $AS$  и  $AS = SB$ , следи  $\frac{BS}{SP} = 2$ .

Важи и  $\sphericalangle BCM = 90^\circ = \sphericalangle BSP$  (дијагонале квадрата се секу под правим углом), па је  $\triangle BCM \sim \triangle BSP$ . Специјално,  $\sphericalangle PBS = \sphericalangle MBC$  (Тангента 52, стр. 47, Писмени задаци, задатак 5).



ОК 102В1

2. Ако је  $t = x^2 + x + 1 = (x + \frac{1}{2})^2 + \frac{3}{4} > 0$ , једначина је дефинисана за свако  $x \in \mathbb{R}$  и овом сменом постаје  $\sqrt{t} = 2 - t$ . За  $t > 2$  она нема решења (стране су различитих знака), а за  $t \leq 2$  је еквивалентна са  $t = (2 - t)^2 = 4 - 4t + t^2 \Leftrightarrow 0 = t^2 - 5t + 4 = (t - 1)(t - 4)$ . Због  $t \leq 2$  следи  $x^2 + x + 1 = t = 1 \Leftrightarrow x^2 + x = 0 \Leftrightarrow x \in \{-1, 0\}$  (Тангента 55, стр. 44, Писмени задаци, задатак 2).

3. Из услова задатка је  $(x + y + 1)^2 = (x^2 + y^2) + 1 + 2(x + xy + y) = 11 + 6\sqrt{2} = (3 + \sqrt{2})^2$ .

1° Ако је  $x + y + 1 = -3 - \sqrt{2}$ , тј.  $x + y = -4 - \sqrt{2}$  и  $xy = 2 + 3\sqrt{2} - (-4 - \sqrt{2}) = 6 + 4\sqrt{2}$ ,  $x$  и  $y$  су корени квадратне једначине  $t^2 + (4 + \sqrt{2})t + (6 + 4\sqrt{2}) = 0$ . Међутим, дискриминанта ове једначине је  $(4 + \sqrt{2})^2 - 4 \cdot (6 + 4\sqrt{2}) = -6 - 8\sqrt{2} < 0$ , па она нема реалних решења.

2° Ако је  $x + y + 1 = 3 + \sqrt{2}$ , тј.  $x + y = 2 + \sqrt{2}$  и  $xy = 2 + 3\sqrt{2} - (2 + \sqrt{2}) = 2\sqrt{2}$ ,  $x$  и  $y$  су корени квадратне једначине  $t^2 - (2 + \sqrt{2})t + 2\sqrt{2} = 0$  (тј. 2 и  $\sqrt{2}$ ).

Дакле, решење је  $(x, y) \in \{(2, \sqrt{2}), (\sqrt{2}, 2)\}$ .

4. Играчи  $A$  и  $B$  су одиграли 10 партија ако су играли међусобно, односно 11 партија ако нису играли међусобно, а преостали играчи су одиграли  $\frac{(n-2)(n-3)}{2}$  партија.

1° Ако  $A$  и  $B$  нису одиграли партију, следи  $\frac{(n-2)(n-3)}{2} + 11 = 55$ , тј.  $n^2 - 5n - 82 = 0$ . Међутим, ова једначина нема целобројних решења.

2° Ако су  $A$  и  $B$  одиграли партију, следи  $\frac{(n-2)(n-3)}{2} + 10 = 55$ , тј.  $n^2 - 5n - 84 = 0 \Leftrightarrow n \in \{-7, 12\}$ , односно  $n = 12$  (јер је  $n \in \mathbb{N}$ ).

Дакле, на турниру је учествовало 12 играча, а  $A$  и  $B$  су играли међусобно.

5. Нека је  $k$  број Перицине куће.

1° Ако  $3 \mid k$ , на основу прве изјаве је  $50 \leq k \leq 59$ , тј. мора бити  $k \in \{51, 54, 57\}$ . Како ниједан од тих бројева није дељив са 4, на основу друге изјаве је  $60 \leq k \leq 69$ . Како не може бити  $k \leq 59$  и  $k \geq 60$ , следи да је ова ситуација немогућа.

2° Ако  $3 \nmid k$ , тада  $6 \nmid k$ , па, на основу треће изјаве, следи  $70 \leq k \leq 79$ . Такође  $4 \mid k$ , иначе би, по другој изјави, следило  $60 \leq k \leq 69$ , тј.  $k \leq 69$  и  $k \geq 70$ , што је немогуће.

Дакле,  $70 \leq k \leq 79$ ,  $3 \nmid k$ ,  $4 \mid k$ . Једини број који задовољава претходне особине је 76 (између 70 и 79 постоје два броја дељива са 4 – то су 72 и 76, али је 72 дељив са 3).

Дакле, број Перицине куће је 76.

### Трећи разред, А категорија

1. Нека је  $m = \sum_{k=1}^{n-3} (k \cdot k!)$ . Тада је

$$\sum_{k=1}^{n-3} (k \cdot k!) = \sum_{k=1}^{n-3} ((k+1-1) \cdot k!) = \sum_{k=1}^{n-3} ((k+1)! - k!) = (n-2)! - 1.$$

Ако је  $n$  сложен број, пошто за  $n \geq 4$  важи  $\frac{n}{2} \leq n-2$ , постоји  $d > 1$  тако да  $d \mid n$  и  $d \leq n-2$ , па  $d \mid (n-2)!$  и  $d \nmid m$ , односно  $n \nmid m$ . Ако је  $n$  прост број, на основу Вилсонове теореме

$n \mid (n-1)! + 1 = (n-1)m + n$ , тј.  $n \mid (n-1)m$ . Како је  $(n, n-1) = 1$ , одавде и  $n \mid m$  (Тангента 56, стр. 8, Наградни задаци, М792).

2. Како је  $x_i$  (за  $i \in \{1, 2, \dots, 2010\}$ ) нула полинома  $x^{2010} + 20x + 2$ , следи  $x_i^{2010} = -20x_i - 2$ , одакле је  $x_i^{2011} = -20x_i^2 - 2x_i$ . На основу Виетових формула следи  $\sum_{i=1}^{2010} x_i = 0$  и  $\sum_{1 \leq i < j \leq 2010} x_i x_j = 0$ , па је

$$\begin{aligned} \sum_{i=1}^{2010} x_i^{2011} &= \sum_{i=1}^{2010} (-20x_i^2 - 2x_i) = -20 \cdot \sum_{i=1}^{2010} x_i^2 - 2 \cdot \sum_{i=1}^{2010} x_i \\ &= -20 \cdot \left( \left( \sum_{i=1}^{2010} x_i \right)^2 - 2 \cdot \sum_{1 \leq i < j \leq 2010} x_i x_j \right) - 2 \cdot \sum_{i=1}^{2010} x_i \\ &= -20 \cdot (0^2 - 2 \cdot 0) - 2 \cdot 0 = 0. \end{aligned}$$

3. Ако је  $n = 3$ , важи  $z_1 + z_2 = -z_3$ , одакле је  $|z_3|^2 = |z_1 + z_2|^2 = |z_1|^2 + |z_2|^2 + z_1 \bar{z}_2 + \bar{z}_1 z_2$ , тј.  $z_1 \bar{z}_2 + \bar{z}_1 z_2 = -|z_1|^2$ . Следи  $|z_1 - z_2|^2 = |z_1|^2 + |z_2|^2 - (z_1 \bar{z}_2 + \bar{z}_1 z_2) = |z_1|^2 + |z_2|^2 + |z_1|^2 = 3 \cdot |z_1|^2$ . Аналогно је  $|z_2 - z_3| = 3 \cdot |z_1|^2 = |z_3 - z_1|^2$ , одакле је  $|z_1 - z_2| = |z_2 - z_3| = |z_3 - z_1|$ , тј. тачке одређене бројевима  $z_1, z_2$  и  $z_3$  чине једнакостраничан троугао.

Ако је  $n > 3$  паран број,  $n = 2k, k \geq 2$ , нека су  $z_1, z_2, \dots, z_k$  различити бројеви модула 1, нека припадају унутрашњости првог квадранта ( $\operatorname{Re} z_i, \operatorname{Im} z_i > 0$  за  $i \in \{1, 2, \dots, k\}$ ; такав избор постоји) и нека је  $z_{k+i} = -z_i$  за  $i \in \{1, 2, \dots, k\}$ . Важи  $|z_1| = |z_2| = \dots = |z_{2k}|$  и  $z_1 + z_2 + \dots + z_{2k} = 0$ . Уколико је  $2k$ -тоугао одређен овим тачкама правилан, он се ротацијама око свог центра (0) за  $i \cdot \frac{\pi}{k}$  (за  $i \in \{1, 2, \dots, 2k\}$ ) слика у себе, па пошто има тачку у унутрашњости првог квадранта, мора је имати и у унутрашњости сваког квадранта (јер је  $k \geq 2$ , па је  $\frac{\pi}{k}$  оштар угао). Међутим, по конструкцији он нема тачака у унутрашњости другог квадранта, па не може бити правилан.

Ако је  $n > 3$  непаран број,  $n = 2k+3, k \geq 1$ , нека су  $z_2, z_3, \dots, z_{k+1}$  различити бројеви модула 1, нека припадају унутрашњости првог квадранта ( $\operatorname{Re} z_i, \operatorname{Im} z_i > 0$  за  $i \in \{2, 3, \dots, k+1\}$ ) и нека је  $\frac{1}{2} > \operatorname{Re} z_2 > \operatorname{Re} z_3 > \dots > \operatorname{Re} z_{k+1}$  (такав избор постоји). Нека је  $z_{k+2+i} = -z_i$  за  $i \in \{2, 3, \dots, k+1\}$  и нека је  $z_1 = -1, z_{k+2} = \frac{1}{2} + i \cdot \frac{\sqrt{3}}{2}, z_{k+3} = \frac{1}{2} - i \cdot \frac{\sqrt{3}}{2}$ . Важи  $|z_1| = |z_2| = \dots = |z_{2k+3}|$  и  $z_1 + z_2 + \dots + z_{2k+3} = z_1 + z_{k+2} + z_{k+3} = 0$  и ово је скуп различитих тачака ( $z_{k+3}$  је у унутрашњости четвртог квадранта, а  $z_{k+3} \notin \{z_2, z_3, \dots, z_{k+1}\}$ , јер је  $\operatorname{Re} z_{k+2} = \frac{1}{2}$ ). Уколико је  $(2k+3)$ -угао одређен овим тачкама правилан, он се ротацијама око свог центра (0) за  $i \cdot \frac{2\pi}{2k+3}$  (за  $i \in \{1, 2, \dots, 2k+2\}$ ) слика у себе, па пошто има тачку у унутрашњости првог квадранта, мора је имати и у унутрашњости сваког квадранта (јер је  $k \geq 1$ , па је  $\frac{2\pi}{2k+3}$  оштар угао). Међутим, по конструкцији он нема тачака у унутрашњости другог квадранта, па не може бити правилан.

Дакле, тврђење је тачно за  $n = 3$ , иначе није.

4. Нека је  $b(n)$  (за  $n \in \mathbb{N}$ ) број подскупова скупа  $\{1, 2, \dots, n\}$  који не садрже три узастопна природна броја. Нека је  $n \geq 4$ ,  $P$  подскуп скупа  $\{1, 2, \dots, n\}$  који не садржи три узастопна природна броја и  $m = \max \{ \{1, 2, \dots, n\} \setminus P \}$  (за  $n \geq 4$  претходни максимум је добро дефинисан). Мора бити  $m \in \{n-2, n-1, n\}$  (иначе  $n-2, n-1, n \in P$ ).

1° Ако је  $m = n$ ,  $P$  је подскуп скупа  $\{1, 2, \dots, n-1\}$  који не садржи три узастопна природна броја. Међутим и сваки такав подскуп скупа  $\{1, 2, \dots, n-1\}$  једнозначно одређује подскуп скупа  $\{1, 2, \dots, n\}$  који не садржи три узастопна природна броја и за кога је  $m = n$  (заправо, исти тај подскуп). Дакле, број оваквих скупова је  $b(n-1)$ .

2° Ако је  $m = n-1$ ,  $P$  садржи  $n$ , а  $P \setminus \{n\}$  је подскуп скупа  $\{1, 2, \dots, n-2\}$  који не садржи три узастопна природна броја. Међутим и сваки такав подскуп скупа  $\{1, 2, \dots, n-2\}$  једнозначно одређује подскуп скупа  $\{1, 2, \dots, n\}$  који не садржи три узастопна природна броја и за кога је  $m = n-1$  (исти тај подскуп коме се дода елемент  $n$ ). Дакле, број оваквих скупова је  $b(n-2)$ .

3° Ако је  $m = n-2$ ,  $P$  садржи  $n-1$  и  $n$ , а  $P \setminus \{n-1, n\}$  је подскуп скупа  $\{1, 2, \dots, n-3\}$  који не садржи три узастопна природна броја. Међутим и сваки такав подскуп скупа

$\{1, 2, \dots, n-3\}$  једнозначно одређује подскуп скупа  $\{1, 2, \dots, n\}$  који не садржи три узастопна природна броја и за кога је  $m = n - 2$  (исти тај подскуп коме се додају елементи  $n - 1$  и  $n$ ). Дакле, број оваквих скупова је  $b(n - 3)$ .

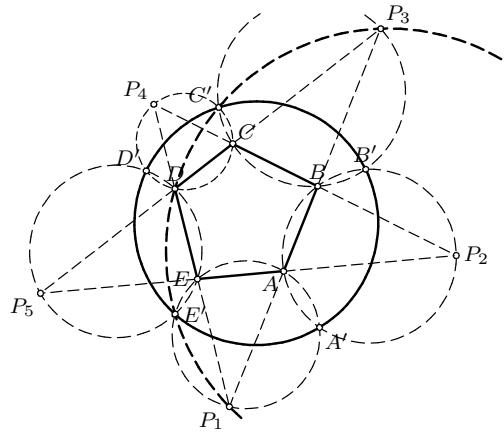
Дакле,  $b(n) = b(n - 1) + b(n - 2) + b(n - 3)$  за свако  $n \geq 4$ . Како је  $b(1) = 2, b(2) = 4, b(3) = 7$ , узастопном применом формуле се добија  $b(10) = 504$ .

5. Нека су тачке  $A', B', C', D'$  и  $E'$  распоређене као на слици (решење је аналогно и у другим ситуацијама). Како је четвороугао  $BP_3C'C$  тетиван, следи  $\sphericalangle P_1P_3C' = \sphericalangle BP_3C' = \sphericalangle P_4CC' = \sphericalangle P_4DC' = 180^\circ - \sphericalangle C'DP_1$ , па су тачке  $P_1, P_3, C'$  и  $D$  на истом кругу. Због симетрије том кругу припада и  $E'$ . Користећи тетивност четвороугла  $AA'B'B$  и како су углови над истом тетивом једнаки, следи

$$\begin{aligned} \sphericalangle A'B'C' &= \sphericalangle A'B'B + \sphericalangle BB'C' = \sphericalangle A'AP_1 + \sphericalangle BP_3C' \\ &= \sphericalangle A'E'P_1 + \sphericalangle P_1P_3C' = \sphericalangle P_1E'C' - \sphericalangle A'E'C' + \sphericalangle P_1P_3C'. \end{aligned}$$

Како је четвороугао  $P_1P_3C'E'$  тетиван, важи  $\sphericalangle P_1E'C' + \sphericalangle P_1P_3C' = 180^\circ$ , па је  $\sphericalangle A'B'C' = 180^\circ - \sphericalangle A'E'C'$ , односно тачке  $A', B', C'$  и  $E'$  припадају истом кругу, а због симетрије том кругу припада и  $D'$ .

*Напомена.* Ово тврђење је познато и као Микелова пентаграм теорема.



ОК 10 ЗА 5

### Трећи разред, Б категорија

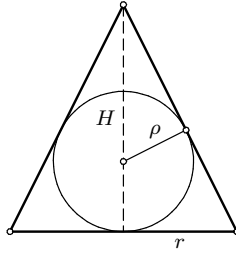
1. За све  $\vec{x}$  и  $\vec{y}$  је  $\vec{x} \times \vec{x} = 0$  и  $\vec{x} \times \vec{y} = -\vec{y} \times \vec{x}$ , па је и  $\vec{x} \times \vec{y} + \vec{x} \times \vec{y} + \vec{y} \times \vec{x} = \vec{x} \times \vec{y}$ . Следи

$$\begin{aligned} (\vec{c} + \vec{a}) \times (\vec{a} + \vec{b}) &= \vec{c} \times \vec{a} + \vec{c} \times \vec{b} + \vec{a} \times \vec{b}, \\ (\vec{a} + \vec{b}) \times (\vec{b} + \vec{c}) &= \vec{a} \times \vec{b} + \vec{a} \times \vec{c} + \vec{b} \times \vec{c}, \\ (\vec{b} + \vec{c}) \times (\vec{c} + \vec{a}) &= \vec{b} \times \vec{c} + \vec{b} \times \vec{a} + \vec{c} \times \vec{a}, \end{aligned}$$

одакле се сабирањем добија тврђење задатка (Тангента 54, стр. 45, Писмени задаци, задатак 3).

2. Пресек купе и равни која садржи осу купе и пречник основе купе је једнакокраки троугао основице  $2r$ , висине  $H$ , крака  $s$  и полупречника уписане кружнице  $\rho$ . Из формула за површину тог троугла следи  $\frac{2r \cdot H}{2} = \rho(2r + 2s)$ .

Следи  $r(H - \rho) = \rho s$ , а како је  $s^2 = r^2 + H^2$ , добија се  $r^2(H - \rho)^2 = \rho^2(H^2 + r^2) = \rho^2 H^2 + \rho^2 r^2 \Leftrightarrow r^2(H^2 - 2H\rho) = H^2 \rho^2 \Leftrightarrow \frac{1}{r^2} = \frac{H^2 - 2H\rho}{H^2 \rho^2} = \frac{1}{\rho^2} - \frac{2}{\rho H}$  (Тангента 56, стр. 34, Писмени задаци, задатак 1).



ОК 10 ЗБ 2

3. За  $x, y \in (0, \frac{\pi}{2})$  је  $\sin y, \cos y \neq 0$ , па је систем еквивалентан са  $\frac{\cos x}{\cos y} = 2 \cos^2 y$ ,  $\frac{\sin x}{\sin y} = 2 \sin^2 y$ . Сабирањем ове две једначине добија се  $\frac{\sin(x+y)}{\sin y \cos y} = 2$ , тј.  $\sin(x+y) = 2 \sin y \cos y \Leftrightarrow 2 \sin \frac{x-y}{2} \cos \frac{x+3y}{2} = 0$ . Из  $0 < x, y < \frac{\pi}{2}$  следи  $-\frac{\pi}{4} < \frac{x-y}{2} < \frac{\pi}{4}$ , па ако је  $\sin \frac{x-y}{2} = 0$  следи  $x = y$ ; међутим, тада из полазних једначина следи  $\sin x = 2 \sin^3 x \Leftrightarrow \sin x = \frac{1}{\sqrt{2}} \Leftrightarrow x = \frac{\pi}{4}$  (јер је  $\sin x > 0$ ); тада је  $y = \frac{\pi}{4}$ . Из  $0 < x, y < \frac{\pi}{2}$  следи  $0 < \frac{x+3y}{2} < \pi$ , па ако је  $\cos \frac{x+3y}{2} = 0$  следи  $x+3y = \pi$ ; међутим, тада из полазних једначина следи  $\sin 3y = \sin(\pi - 3y) = \sin x = 2 \sin^3 y \Leftrightarrow 3 \sin y - 4 \sin^3 y = 2 \sin^3 y \Leftrightarrow \sin y = 2 \sin^3 y \Leftrightarrow \sin y = \frac{1}{\sqrt{2}} \Leftrightarrow y = \frac{\pi}{4}$  (јер је  $\sin y > 0$ ); тада је  $x = \frac{\pi}{4}$ .
- Провером,  $x = y = \frac{\pi}{4}$  је решење, па је ово једино решење система из задатка.
4. Видети решење трећег задатка за други разред А категорије.
5. Видети решење петог задатка за други разред Б категорије.

Четврти разред, А категорија

1. Видети решење првог задатка за трећи разред А категорије.
2. Нека је  $\sin x = t$  и  $g(t) = t + \frac{2}{3+t} + b$ .  $g$  је диференцијабилна на  $(0, 1)$  и важи  $g'(t) = \frac{7+6t+t^2}{(3+t)^2}$ , па је  $g$  растућа на  $[-1, 1]$  ( $\frac{-6+\sqrt{6}}{2} < \frac{-6+3}{2} = -\frac{3}{2} < -1$ ). Следи  $f(b) = \max\{|g(-1), g(1)|\} = \max\left\{|b|, \left|b + \frac{3}{2}\right|\right\} \geq \frac{3}{4}$ . Како је  $f\left(-\frac{3}{4}\right) = \frac{3}{4}$ , следи  $\min_{b \in \mathbb{R}} f(b) = \frac{3}{4}$ .
3. Нека је  $\mathfrak{I}(A, B) = \frac{a_1 \cdot \dots \cdot a_m}{b_1 \cdot \dots \cdot b_n}$ . Применом операција  $1^\circ, 2^\circ, 3^\circ$  вредност  $\mathfrak{I}$  се не мења, тј. применом ових операција могуће добити само парове  $(C, D)$  за које је  $\mathfrak{I}(C, D) = \mathfrak{I}(A, B)$ . Са друге стране, ако су  $C = (c_1, \dots, c_m)$  и  $D = (d_1, \dots, d_n)$  такви да је  $\mathfrak{I}(C, D) = \mathfrak{I}(A, B)$ , узастопном применом операције  $3^\circ$  на  $c_1, d_j$  и  $z = \frac{b_j}{d_j}$  (за свако  $j \in \{1, \dots, n\}$ , редом), а након тога узастопном применом операције  $1^\circ$  на  $c_1, c_j$  и  $z = \frac{c_j}{a_j}$  (за свако  $j \in \{2, \dots, m\}$ , редом) се долази до  $C' = (c'_1, \dots, c'_m)$  и  $D' = (d'_1, \dots, d'_n)$  таквих да важи  $c'_i = a_i$  за  $j \in \{2, \dots, m\}$  и  $d'_i = b_i$  за  $j \in \{1, \dots, n\}$ ; међутим, због  $\mathfrak{I}(C', D') = \mathfrak{I}(C, D) = \mathfrak{I}(A, B)$  мора бити и  $c'_1 = a_1$ .
- Дакле, од  $(A, B)$  се може добити  $(\bar{A}, \bar{B})$  ако и само ако је  $\frac{a_1 \cdot \dots \cdot a_m}{b_1 \cdot \dots \cdot b_n} \in \mathbb{R}$ .
4. Функције  $f(x) = x^2 + kx + k - 1$  (за  $k \in \{2, 3, \dots, n\}$ ),  $f(x) = 2x^2 + 4x + 2$  и  $f(x) = x^2 + 4x + 4$  задовољавају услове задатка, па је  $p(n) \geq n + 1 > n$ .
- $p(4) = 5 < 4^2$ ,  $p(5) = 6 < 5^2$ ,  $p(6) = 10 < 6^2$ , па за  $n \in \{4, 5, 6\}$  важи и друга неједнакост. Ако  $f(x) = a(x+x_1)(x+x_2)$  има тражена својства, бројеви  $a, a(x_1+x_2)$  и  $ax_1x_2$  су из  $\{1, 2, \dots, n\}$ , па је  $x_2 \leq \frac{n}{ax_1}$ , одакле је

$$p(n) \leq \sum_{x_1=1}^n \sum_{a=1}^n \frac{n}{ax_1} = n \sum_{x_1=1}^n \frac{1}{x_1} \sum_{a=1}^n \frac{1}{a} = n \left(1 + \frac{1}{2} + \dots + \frac{1}{n}\right)^2.$$

Дакле, довољно је доказати да је  $1 + \frac{1}{2} + \dots + \frac{1}{n} < \sqrt{n}$  за  $n \geq 7$ ; доказ индукцијом; за  $n = 7$  је  $\sum_{i=1}^7 \frac{1}{i} = \left(1 + \frac{1}{2} + \frac{1}{3} + \frac{1}{6}\right) + \frac{1}{4} + \frac{1}{5} + \frac{1}{7} = 2 + \frac{9}{20} + \frac{3}{21} < 2 + \frac{9}{20} + \frac{3}{20} = 2,6 < \sqrt{7}$ . Нека је тврђење тачно за  $n$ ; важи  $1 + \frac{1}{2} + \dots + \frac{1}{n} + \frac{1}{n+1} < \sqrt{n} + \frac{1}{n+1}$ , па је довољно доказати да је

$$\begin{aligned} \sqrt{n} + \frac{1}{n+1} \leq \sqrt{n+1} &\Leftrightarrow \frac{1}{n+1} < \sqrt{n+1} - \sqrt{n} = \frac{1}{\sqrt{n+1} + \sqrt{n}} \\ &\Leftrightarrow \frac{1}{n+1} \leq \frac{1}{2\sqrt{n+1}} \Leftrightarrow 2 \leq \sqrt{n+1} \Leftrightarrow n \geq 5. \end{aligned}$$

5. Видети решење петог задатка за трећи разред А категорије.

#### Четврти разред, Б категорија

1. Нека је  $x$  први, а  $y$  други број. Тада је  $x + y = c$  и треба одредити највећу вредност израза  $x^3 y^2$  при услову  $x, y > 0, x + y = c$ , односно треба одредити највећу вредност функције  $f(x) = x^3(c-x)^2$ ,  $x \in (0, c)$ .  $f$  је диференцијабилна функција. Како је  $f'(x) = 3x^2(c-x)^2 + x^3 \cdot 2(c-x) \cdot (-1) = x^2(c-x)(3c-5x)$ , следи да је  $f'(x) > 0$  за  $x \in (0, \frac{3}{5} \cdot c)$  и  $f'(x) < 0$  за  $x \in (\frac{3}{5} \cdot c, c)$ , па се максимум ове функције достиже за  $x = \frac{3}{5} \cdot c$  и износи  $f(\frac{3}{5} \cdot c) = \frac{3^3 \cdot 2^2}{5^5} \cdot c^5$  (Тангента 58, стр. 28, Писмени задаци, задатак 3).

2. Видети решење другог задатка за трећи разред Б категорије.

3. Нека је  $\alpha = \arctg \frac{1}{\sqrt{27}}, \beta = \arcsin \sqrt{\frac{3}{28}}$ . Како је  $\frac{1}{\sqrt{27}}, \sqrt{\frac{3}{28}} > 0$ ,  $\alpha$  и  $\beta$  су оштри углови и важи  $\operatorname{tg} \alpha = \frac{1}{3\sqrt{3}}, \sin \beta = \sqrt{\frac{3}{28}}$ . Следи  $\cos \beta = \sqrt{1 - \sin^2 \beta} = \sqrt{\frac{25}{28}} = \frac{5}{\sqrt{28}}$  ( $\beta$  је оштар угао), одакле је  $\operatorname{tg} \beta = \frac{\sin \beta}{\cos \beta} = \frac{\sqrt{3}}{5}$ , па важи

$$\operatorname{tg}(\alpha + \beta) = \frac{\operatorname{tg} \alpha + \operatorname{tg} \beta}{1 - \operatorname{tg} \alpha \cdot \operatorname{tg} \beta} = \frac{\frac{1}{3\sqrt{3}} + \frac{\sqrt{3}}{5}}{1 - \frac{1}{3\sqrt{3}} \cdot \frac{\sqrt{3}}{5}} = \frac{1}{\sqrt{3}} = \operatorname{tg} \frac{\pi}{6}.$$

Како је  $\alpha + \beta \in (0, \pi)$ , следи  $\alpha + \beta = \frac{\pi}{6}$  (једини угао из  $(0, \pi)$  чији је тангенс једнак  $\frac{1}{\sqrt{3}}$  је  $\frac{\pi}{6}$ ), па је  $\frac{\pi}{\alpha + \beta} = 6 \in \mathbb{N}$ .

4. (а) Нека комплексном броју  $z$  одговара тачка  $T_z$  (за  $z \in \{a, b, z_1, z_2, z_1 + z_2, 0\}$ ). За  $a, b \in \mathbb{C}$  израз  $|a - b|$  једнак је дужини дужи  $T_a T_b$ , па из  $|(z_1 + z_2) - 0| = |z_1 + z_2| = |z_1 - z_2|$  следи  $|T_{z_1+z_2} T_0| = |T_{z_1} T_{z_2}|$ . Дакле, четвороугао  $T_0 T_{z_1} T_{z_1+z_2} T_{z_2}$  је паралелограм коме су дијагонале једнаких дужина, односно правоугаоник, па је  $\triangle T_{z_1} T_0 T_{z_2}$  правоугли.

(б) Ако је  $z_1 = 1, z_2 = 1 + i$ , тада је  $\triangle T_{z_1} T_0 T_{z_2}$  правоугли ( $\sphericalangle T_0 T_{z_1} T_{z_2} = 90^\circ$ ) и  $|z_1 + z_2| = \sqrt{5} \neq 1 = |z_1 - z_2|$ , тј. не мора бити  $|z_1 + z_2| = |z_1 - z_2|$ .

*Друго решење.* (дела а)) Како је  $|z_1 \pm z_2|^2 = |z_1|^2 + |z_2|^2 \pm (z_1 \bar{z}_2 + \bar{z}_1 z_2)$ , из  $|z_1 + z_2| = |z_1 - z_2|$  и  $z_1 z_2 \neq 0$  следи  $z_1 \bar{z}_2 = -\bar{z}_1 z_2 \Leftrightarrow \frac{z_1}{z_2} = -\overline{\left(\frac{z_1}{z_2}\right)}$ , тј. број  $\frac{z_1}{z_2}$  је чисто имагинаран, што значи да вектори који одговарају бројевима  $z_1$  и  $z_2$  заклапају прав угао.

5. На основу таблице следи да сваки студент има бар један заједнички одговор  $\perp$  са неким другим студентом. Стога ако неки студент има свих 5 тачних одговора, онда сваки студент има бар 1 тачан одговор. Како студенти имају различит број тачних одговора, следи да је укупан број тачних одговора  $5 + 4 + 3 + 2 + 1 = 15$ . Из таблице следи да је максималан број тачних одговора  $2 + 2 + 4 + 4 + 3 = 15$  (на прво питање  $a$  или  $b$ , на друго  $a$  или  $b$ , на треће  $\top$ , на четврто  $\top$  и на пето  $\top$ ). Због  $\perp$  питања следи би све тачне одговоре имао Аца, али би тада Беба и Гоца имали по два тачна одговора, а Весна и Доки по три, што противречи услову задатка да сви студенти имају различит број тачних одговора. Дакле, не постоји студент који има све тачне одговоре.

Укупан број тачних одговора је  $4 + 3 + 2 + 1 + 0 = 10$ . Уколико би тачни одговори на 3. и 4. питање били  $\perp$  и  $\perp$ , онда би максималан број тачних одговора био  $2 + 2 + 1 + 1 + 3 = 9 < 10$ ,



што није могуће. Уколико би тачни одговори на 3. и 4. питање били Т и Т, онда би минималан број тачних одговора био  $1 + 1 + 4 + 4 + 2 = 12 > 10$ , што није могуће.

*Напомена.* Под условима задатка, могуће је одредити шта је тачан одговор на свако од пет питања, тј. у потпуности одредити шта се догодило. Заиста, из претходног следи да Аца, Весна и Гоца (који су на на 3. и 4. питање одговорили са Т и Т) не могу бити студент који има све нетачне одговоре, па је тај студент Беба или Доки.

Ако Беба нема тачног одговора онда су тачни одговори на Т-⊥ питања: 3. ⊥ (јавља се 1 пут), на 4. Т (јавља се 4 пута) и на 5. ⊥ (јавља се 2 пута). Тада Весна, Гоца и Доки имају бар 2 тачна одговора, па Аца има тачан 1 одговор и то ће бити 4. Т. Како су и Ацина и Бебина питања са вишеструким одговором нетачна, следи да су одговори на прва два питања: 1. *c* (јавља се 1 пут) и 2. *c* (јавља се 1 пут). Међутим, тада је укупан број тачних одговора  $1 + 1 + 1 + 4 + 2 = 9$ , а не 10, па Беба није студент који има све нетачне одговоре, него Доки.

Како Доки нема тачног одговора, тачни одговори на Т-⊥ питања су: 3. Т (јавља се 4 пута), на 4. ⊥ (јавља се 1 пут) и на 5. ⊥ (јавља се 2 пута). Тада Беба, Весна и Гоца имају бар 2 тачна одговора, па Аца има тачан 1 одговор и то 3. Т. Како су и Ацина и Докијева питања са вишеструким одговором нетачна, одговори на прва два питања су: 1. *b* (јавља се 2 пута) и 2. *b* (јавља се 2 пута) или *c* (јавља се 1 пут). Како је укупан број тачних одговора  $10 = 2 + 1 + 4 + 1 + 2$ , следи да је тачан одговор 2. *c*.

Дакле, тачни одговори су: 1. *b*, 2. *c*, 3. Т, 4. ⊥ и 5. ⊥ (они су у табlici уоквирени—у последњој колони је укупан број тачних одговора сваког од студената).

	I	II	III	IV	V	
Аца	<i>a</i>	<i>a</i>	Т	Т	Т	1
Беба	<i>b</i>	<i>b</i>	Т	⊥	Т	3
Весна	<i>a</i>	<i>b</i>	Т	Т	⊥	2
Гоца	<i>b</i>	<i>c</i>	Т	Т	⊥	4
Доки	<i>c</i>	<i>a</i>	⊥	Т	Т	0